


CHỦ ĐỀ 13

LÀM QUEN VỚI YẾU TỐ THỐNG KÊ XÁC SUẤT



BÀI 66: LỰA CHỌN KHẢ NĂNG





Khám phá

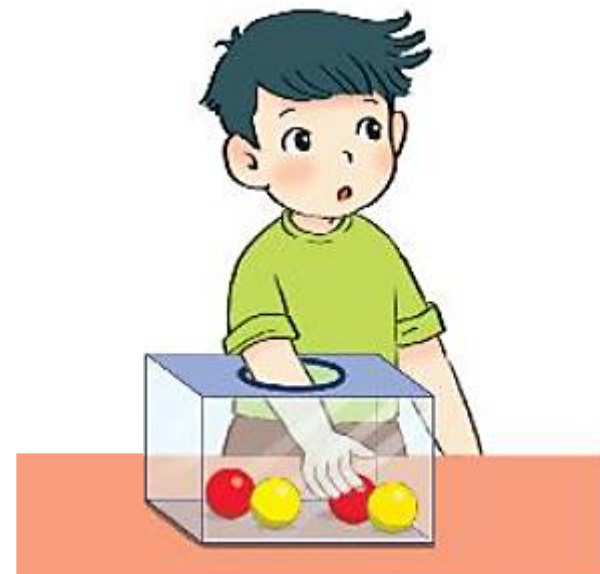
Mỗi bạn Mai, Việt và Nam lấy một quả bóng trong hộp như hình dưới đây.



Mai **chắc chắn** lấy được bóng xanh



Việt **có thể** lấy được bóng xanh



Nam **không thể** lấy được bóng xanh

HOẠT
ĐỘNG





1 Chọn từ *chắc chắn*, *có thể*, hoặc *không thể* cho phù hợp



Bóng **không thể**
vào khung thành



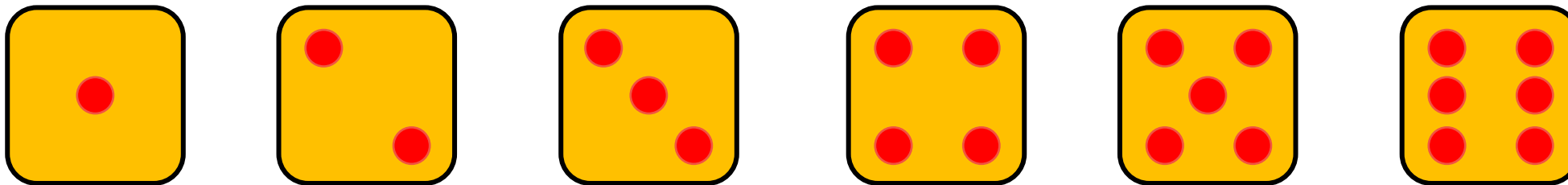
Bóng **chắc chắn**
vào khung thành



Bóng **có thể**
vào khung thành

2 Chọn câu trả lời đúng

Mai gieo một xúc xắc sau mặt như sau:



Khả năng số chấm xuất hiện ở mặt trên xúc xắc là:

a) 4 chấm

A. chắc chắn

B. có thể

C. không thể

b) Ít hơn 7 chấm

A. chắc chắn

B. có thể

C. không thể

c) Nhiều hơn 7 chấm

A. chắc chắn

B. có thể

C. không thể

3

Chọn từ *chắc chắn*, *có thể*, hoặc *không thể* cho phù hợp.
Rô-bốt có 5 quả táo. Rô-bốt tặng táo cho cả bốn bạn



Bạn nào cũng nhận được táo.

Trong giỏ còn lại 2 quả táo.

Trong giỏ còn lại 1 quả táo.

Mi nhận được bốn quả táo.

Có thể

Không thể

Chắc chắn